



EXÉRCITO BRASILEIRO
ESCOLA DE SAÚDE E FORMAÇÃO COMPLEMENTAR DO EXÉRCITO

CONCURSO DE ADMISSÃO/2022
PARA MATRÍCULA NO CURSO DE FORMAÇÃO DE OFICIAIS DO QUADRO COMPLEMENTAR/2023 E
NO CURSO DE FORMAÇÃO DE CAPELÃES MILITARES/2023

004. PROVA OBJETIVA

CURSO DE FORMAÇÃO DE OFICIAIS DO QUADRO COMPLEMENTAR

ÁREA: CIÊNCIAS CONTÁBEIS

- Você recebeu sua folha de respostas e este caderno contendo 60 questões objetivas.
- Confira seus dados impressos na capa deste caderno e na folha de respostas.
- Certifique-se de que a letra referente ao modelo de sua prova é igual àquela constante em sua folha de respostas.
- Quando for permitido abrir o caderno, verifique se está completo ou se apresenta imperfeições.
- Caso haja alguma divergência de informação, comunique ao fiscal da sala para a devida substituição desse caderno.
- Leia cuidadosamente todas as questões e escolha a resposta que você considera correta.
- Marque, na folha de respostas, com caneta de tinta azul ou preta, a letra correspondente à alternativa que você escolheu.
- A duração da prova é de 4 horas, já incluído o tempo para o preenchimento da folha de respostas.
- Só será permitida a saída definitiva da sala e do prédio após transcorridas 3 horas do início da prova.
- Até que você saia do prédio, todas as proibições e orientações continuam válidas.

AGUARDE A ORDEM DO FISCAL PARA ABRIR ESTE CADERNO.

Nome do candidato _____

RG _____ Inscrição _____ Prédio _____ Sala _____ Carteira _____

CONHECIMENTOS GERAIS

LÍNGUA PORTUGUESA

Leia o texto para responder às questões de números **01** a **03**.

Nossa relação com os animais repete, de maneira invertida, os cuidados que recebemos na primeira infância. Nós também fomos, no início, dependentes, desamparados e estávamos nas mãos de uma figura prestativa e generosa, mas que tinha todo poder sobre nós. Nossa capacidade de sentir piedade vem daí. A irresistível combinação de piedade, simpatia e acolhimento que a imagem de um animal *fofinho* desperta em nós, também. Contudo, esse é um amor de baixa qualidade e de grande aptidão à dispersão quando falamos em um projeto de longo prazo. Animais de estimação são como filhos. Mas filhos que não crescem, não resistem para ir à escola, não reclamam por autonomias adolescentes nem vão embora para a faculdade e se casam, deixando-nos para trás.

Com os animais de estimação cada um revive a forma de amar e ser amado que Freud descreveu como narcisismo. Nele, confunde-se o amar o outro e o amar-se a si mesmo através do outro. E muitas vezes essa confusão se infiltra e atrapalha decisivamente a vida dos casais. Quando alguém declara que ama os cães a ponto de ter dois ou sete deles em casa, isso não representa nenhuma contradição com o ato de maltratá-los. Tudo depende da qualidade do laço que se estabelece nesse amor.

Quando amamos nossos cães, nossos filhos ou nossas mulheres *como a nós mesmos*, podemos chegar a maltratá-los da pior maneira. Daí a importância de amar o outro conferindo algum espaço para o fato de que ele é um estranho, alguém diferente de mim. O amor não é garantia nem de si mesmo nem do desejo que ele deve habilitar. Isso vai aparecer na relação com os animais, como uma espécie de raio x das nossas formas de amar. Quem trata seus animais como uma parte de si mesmo, humanizando-os realmente como filhos, chamando-os de nenês, por exemplo, pode estar indicando uma forma mais simples e narcísica de amar.

(Christian Dunker, *Reinvenção da intimidade – políticas do sofrimento cotidiano*. Adaptado)

01. De acordo com o texto, é possível afirmar que

- (A) é mais simples amar pessoas do que animais de estimação, pois estes podem ser muito agressivos.
- (B) quando tratamos os animais de estimação como se fossem crianças, tendemos a cuidar melhor deles.
- (C) o modo como alguém se relaciona com seus animais de estimação pode revelar o modo como ama as pessoas.
- (D) aqueles que conseguem amar pessoas diferentes de si apresentam maior capacidade de empatia e afeição.
- (E) diferentemente do amor que nutrimos por animais de estimação, o amor pelos filhos tende a ser narcisista.

02. Assinale a alternativa cujo trecho reescrito está de acordo com a norma-padrão de pontuação e crase.

- (A) Contudo, esse é um amor, de baixa qualidade e de grande aptidão à se dispersar...
- (B) E, muitas vezes, essa confusão se infiltra e causa prejuízos à vida dos casais.
- (C) Nossa relação, com os animais repete, de maneira invertida, os cuidados ofertados à nós...
- (D) Em relação à animais de estimação, cada um, revive a forma de amar e ser amado...
- (E) Daí a importância de amar, o outro, dando à ele, algum espaço, para à realidade de ser um estranho...

03. Assinale a alternativa que apresenta concordância verbal de acordo com a norma-padrão.

- (A) Com os animais de estimação, uma forma de amar e ser amado são revividas.
- (B) Existe entre as pessoas laços de afeto de diferentes qualidades.
- (C) É comum haverem animais tratados pelas pessoas como seres humanos.
- (D) Uma figura prestativa e generosa cuidaram de nós no início da vida.
- (E) Confundem-se, no narcisismo, o amar o outro e o amar-se a si mesmo.

Leia o texto para responder às questões de números **04** a **06**.

Estamos sempre em contato com nossos sentimentos, mas a parte complicada é que nossas emoções e nossos sentimentos não são a mesma coisa. Tendemos a confundir-los, mas sentimentos são estados subjetivos internos que, falando em sentido estrito, são conhecidos apenas por aqueles que os possuem. Conheço meus sentimentos, mas não conheço os seus, exceto pelo que você me conta sobre eles. Nós nos comunicamos sobre nossos sentimentos pela linguagem. Emoções, por outro lado, são estados corporais e mentais – a raiva, o medo, a afeição, bem como a busca de vantagens – que movem o comportamento. Desencadeadas por certos estímulos e acompanhadas de mudanças comportamentais, as emoções são detectáveis externamente na expressão facial, na cor da pele, no timbre da voz, nos gestos, no odor e assim por diante. Somente quando a pessoa que experimenta essas mudanças toma consciência delas é que elas se tornam sentimentos, que são experiências conscientes. Mostramos nossas emoções, mas falamos sobre nossos sentimentos.

(Frans de Waal, *O último abraço da matriarca: as emoções dos animais e o que elas revelam sobre nós*.)

04. De acordo com o texto, é possível afirmar que

- (A) tanto emoções quanto sentimentos são passíveis de expressão.
- (B) os sentimentos apresentam um caráter menos sutil do que as emoções.
- (C) as atitudes de uma pessoa desencadeiam emoções distintas.
- (D) emoções fortes, como raiva e medo, são facilmente verbalizadas.
- (E) a intensidade dos sentimentos depende do domínio da linguagem verbal.

05. No trecho – Estamos **sempre** em contato com nossos sentimentos... –, a expressão em destaque tem a mesma função sintática do que se destacou em:

- (A) ...nossas emoções e nossos sentimentos não são a **mesma coisa**.
- (B) ...não conheço **os seus**, exceto pelo que você me conta sobre eles.
- (C) ...quando a pessoa que experimenta essas mudanças toma consciência **delas**...
- (D) ...falando **em sentido estrito**, são conhecidos apenas por aqueles que os possuem.
- (E) Tendemos a confundi-**los** ...

06. Assinale a alternativa em que os trechos – Conheço meus sentimentos... – e – ...que movem o comportamento. – foram reescritos de acordo com a norma-padrão de colocação pronominal.

- (A) Conheço-os ... que lhe movem.
- (B) Os conheço ... que movem-no.
- (C) Conheço-os ... que o movem.
- (D) Conheço-lhes ... que o movem.
- (E) Lhes conheço ... que movem-no.

Leia o texto para responder às questões de números 07 e 08.

Os poemas são pássaros que chegam
não se sabe de onde e pousam
no livro que lêis.
Quando fechas o livro, eles alçam voo
como de um alçapão.
Eles não têm pouso
nem porto
alimentam-se um instante em cada par de mãos
e partem.
E olhas, então, essas tuas mãos vazias,
no maravilhado espanto de saberes
que o alimento deles já estava em ti...

(Mario Quintana. *Rua dos Cataventos & outros poemas*)

07. No verso – Os poemas são pássaros que chegam – há

- (A) uma metáfora.
- (B) uma ironia.
- (C) uma personificação.
- (D) um paradoxo.
- (E) uma metonímia.

08. Passando-se as formas verbais em destaque nos versos – no livro que **lêis** / Quando **fechas** o livro, eles alçam voo – para a primeira pessoa do plural, tem-se, respectivamente:

- (A) líamos e fecharém.
- (B) lemos e fechamos.
- (C) lemos e fecham.
- (D) lermos e fecharmos.
- (E) líamos e fechamos.

HISTÓRIA DO BRASIL

09. À medida que se tornava cada vez mais aparente a insuficiência do projeto dos aldeamentos enquanto forma de suprir a força de mão de obra, os colonos passaram a intensificar outros meios de recrutamento de índios para os seus serviços. A partir da década de 1580, a despeito das restrições impostas pela legislação portuguesa, os colonos começaram a favorecer a apropriação direta do trabalhador indígena através de expedições predatórias ao sertão. Realmente, a observância estrita da lei nunca figurou entre as práticas prediletas dos paulistas. [...] a lei de 1570 e legislação subsequente admitiam o cativoiro [...]

(John Manuel Monteiro, *Negros da terra: Índios e bandeirantes das origens de São Paulo*)

A legislação portuguesa admitia o cativoiro do indígena que

- (A) fosse capturado na chamada guerra justa.
- (B) ocupasse regiões fronteiriças com a América espanhola.
- (C) não conhecesse a língua geral.
- (D) mantivesse a organização baseada em tribos.
- (E) aceitasse integrar uma missão religiosa.

10. Um quilombo dirigido por homens livres. Um quilombo com escravidão. Um quilombo agrícola e cuja produção estava integrada ao mercado regional. Que quilombo era esse? Esta é a história – ou uma das histórias possíveis – do quilombo do Oitezeiro, na Bahia de 1806.

(João José Reis, *Escravos e coiteiros no quilombo do Oitezeiro – Bahia, 1806*. Em: João José Reis e Flávio dos Santos Gomes (org.), *Liberdade por um fio: história dos quilombos no Brasil*)

A partir do excerto, acerca dos quilombos no Brasil, segundo o artigo de João José Reis, é correto afirmar que

- (A) as práticas quilombolas, na maioria dos casos, resultaram em um profundo isolamento do resto das atividades econômicas e sociais, gerando nas comunidades de escravizados fugidos uma produção especialmente de subsistência de alimentos e artesanato, além da recorrente necessidade de praticar roubos contra arraiais e vilas.
- (B) a maior parte das experiências de escravizados fugidos dos seus senhores, e construindo espaços isolados de proteção, ocorreu durante o século XVII em razão da invasão holandesa e, por outro lado, até o fim do sistema escravista, foi rara a organização de quilombos, porque surgiram legislações repressivas.
- (C) o modelo de quilombo com maior presença na América portuguesa e no Brasil Império foi o de Palmares, que reuniu essencialmente escravizados nascidos na África, com forte produção extrativista voltada para o abastecimento de núcleos urbanos e que contava com uma maioria de mulheres.
- (D) o formato quilombo, derivado de organizações de escravizados das colônias francesas da América Central, representou, na maior parte das vezes, a possibilidade de reproduzir os modelos igualitários presentes nas diversas regiões africanas, em especial, aquelas que forneceram pessoas a serem escravizadas.
- (E) há uma visão enganosa do quilombo como um espaço isolado no alto da serra e formado por milhares de escravos fugidos, porém, na maior parte das vezes, os fugidos eram poucos, se estabeleciam próximos a povoações, fazendas e, às vezes, nas imediações de centros urbanos, mantendo relações ora conflituosas, ora amistosas.

11. Analise a tabela.

EXPANSÃO DAS ESTRADAS DE FERRO NO BRASIL
(1854-1929)

Anos	Região Cafeeira (km)	Brasil (km)
1854	14,5	14,5
1859	77,9	109,4
1864	163,2	411,3
1869	450,4	713,1
1874	1.053,1	1.357,3
1879	2.395,9	2.895,7
1884	3.830,1	6.324,6
1889	5.590,3	9.076,1
1894	7.676,6	12.474,3
1899	8.173,9	13.980,6
1904	10.212,0	16.023,9
1906	11.281,3	17.340,4
1929	18.326,1	32.000,3

(Sérgio Silva, *Expansão cafeeira e origens da indústria no Brasil*. Apud José Miguel Arias Neto, *Primeira República: economia cafeeira, urbanização e industrialização*. Em: Jorge Ferreira e Lucília de Almeida Neves Delgado (org.), *O Brasil Republicano v.1 - O tempo do liberalismo excludente: da Proclamação da República à Revolução de 1930*. Adaptado)

A partir dos dados, é correto afirmar que

- (A) a extensão da malha ferroviária agilizou o transporte de café, ao mesmo tempo em que o alto custo desse meio de transporte fez diminuir o lucro dos cafeicultores, com a conseqüente queda nos novos investimentos.
- (B) a presença do transporte ferroviário teve pequena importância para o desenvolvimento da agroexportação de café, que precisava de portos modernos e adequados para navios de grande porte, como se tornou o de Santos.
- (C) o alargamento ferroviário dependeu das políticas públicas presentes a partir da Primeira República, porque durante o Império, a Câmara dos Deputados entravou o crescimento das linhas ferroviárias, prejudicando a produção cafeeira.
- (D) a expansão ferroviária coincide, do ponto de vista cronológico, com a ampliação das exportações de café, o que comprova que a economia cafeeira dinamizou e simultaneamente foi dinamizada pela melhoria do sistema de transporte.
- (E) os recursos financeiros que permitiram o forte crescimento da produção cafeeira foram oriundos do lucro das companhias ferroviárias, empresas de capitais majoritariamente estadunidenses e com pequena participação estatal.

12. Em 3 de dezembro de 1870 foi publicado o jornal *A República*, que trazia estampado o “Manifesto republicano brasileiro”, o mesmo que daria base para a fundação de um novo partido em 17 de janeiro de 1872. Formado inicialmente por profissionais liberais ligados a setores urbanos, nomeadamente paulistas, o Partido Republicano organizou seu primeiro congresso em julho de 1873, quando foi reforçado por novos adeptos de fôlego: fazendeiros paulistas que, descontentes com o que consideravam ser uma política intervencionista do Estado, passaram a engrossar as fileiras da oposição à monarquia.

[...]

A cisão do Partido Liberal levou, então, à formação do Partido Republicano Paulista, em 18 de abril de 1873, que se reuniu na hoje famosa Convenção de Itu.

(Lília M. Schwarcz e Heloísa M. Starling, *Brasil, uma biografia*)

O novo partido

- (A) defendia a imediata abolição do sistema escravista e a efetivação da república por meio do impedimento da coroação do herdeiro de dom Pedro II.
- (B) considerava que as leis abolicionistas eram insuficientes para resolver o problema do escravismo e propunha uma radical reforma na legislação eleitoral.
- (C) censurava as iniciativas governamentais de incentivar a imigração para o país e via a necessidade de políticas afirmativas para os alforriados.
- (D) apoiava a fusão da Câmara dos Deputados e o Senado e a realização de um plebiscito para se decidir sobre a manutenção, ou não, da Monarquia.
- (E) criticava, sobretudo, o centralismo do trono e da administração, e propunha uma reforma pacífica, através da implementação de uma república federativa.

13. Ao analisar a Revolução de 1930, o historiador Boris Fausto considerou que

Um novo tipo de Estado nasceu após 1930, distinguindo-se do Estado oligárquico não apenas pela centralização e pelo maior grau de autonomia como também por outros elementos.

(Boris Fausto, *História do Brasil*. Adaptado)

Entre esses outros elementos constitutivos do Estado brasileiro, após 1930, é correto apontar que houve atuação relativa à questão

- (A) educacional, promovendo a universalização da educação primária em todo território nacional, além da proibição de qualquer forma de ensino religioso na escola pública.
- (B) cultural, preocupada com a ampliação da liberdade de produção artística, ao mesmo tempo em que a expansão das transmissões radiofônicas foi deliberadamente entravada.
- (C) social, voltada a dar algum tipo de proteção aos trabalhadores urbanos, incorporando-os, posteriormente, a uma aliança de classes promovida pelo poder estatal.
- (D) política, dirigida para o fortalecimento das casas legislativas em todas as instâncias e o gradativo enfraquecimento das prerrogativas do Poder Executivo, principalmente no nível federal.
- (E) econômica, voltada progressivamente para o objetivo de priorizar a modernização da agricultura de exportação, especialmente do café do Sudeste e do algodão nordestino.

14. As eleições de 1945 despertaram um grande interesse na população. Depois de anos de ditadura, a Justiça Eleitoral ainda não ajustara o processo de recepção e contagem de votos. Pacientemente, os brasileiros formaram longas filas para votar. Nas últimas eleições diretas à presidência da República, em março de 1930, tinham votado 1,9 milhão de eleitores, representando 5,7% da população total; em dezembro de 1945 votaram 6,2 milhões, representando 13,4% da população.

Em uma época em que não existiam pesquisas eleitorais, a oposição foi surpreendida pela nítida vitória de Dutra. Tomando-se como base de cálculo os votos dados aos candidatos, com exclusão dos nulos e brancos, o general venceu com 55% dos votos contra 35% atribuídos ao brigadeiro [Eduardo Gomes].

(Boris Fausto, *História do Brasil*)

Para Boris Fausto, a vitória eleitoral de Dutra teve relação com a

- (A) expressiva participação das mulheres no processo eleitoral e na fragilidade dos programas de governo dos demais candidatos.
- (B) decisiva votação recebida em todos os estados do Norte-Nordeste e o importante apoio recebido do Partido Comunista do Brasil.
- (C) força da máquina eleitoral montada pelo PSD a partir dos interventores estaduais e o prestígio de Getúlio Vargas entre os trabalhadores.
- (D) capacidade da UDN em mostrar os malefícios causados no país pelo Estado Novo e pela considerável adesão das classes médias urbanas.
- (E) inabilidade do PTB, que defendeu durante a campanha eleitoral a extinção do salário mínimo, e ao forte apoio do empresariado paulista.

15. Considere o IDHM (Índice de Desenvolvimento Humano Municipal) das seguintes regiões metropolitanas:

Região Metropolitana	IDHM 2000	IDHM 2010
Belém	0,621	0,729
Belo Horizonte	0,682	0,729
Curitiba	0,698	0,783
Fortaleza	0,622	0,732
Manaus	0,585	0,720
Rio de Janeiro	0,686	0,771
São Paulo	0,714	0,794

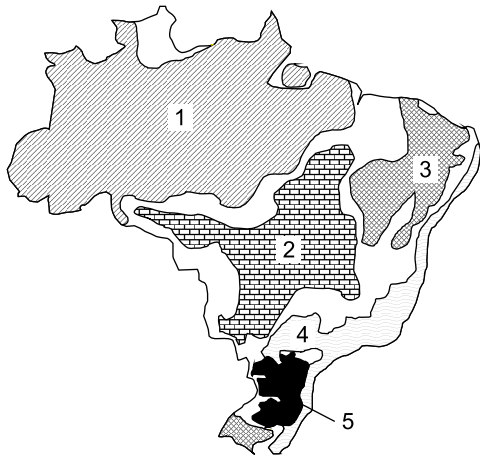
(https://www.ipea.gov.br/portal/index.php?option=com_content&id=24037)

O aumento dos índices das regiões metropolitanas entre 2000 e 2010 deveu-se, principalmente,

- (A) à expansão do pleno emprego e consequente aumento da renda per capita.
 - (B) à melhoria dos fatores longevidade, educação e renda per capita.
 - (C) ao avanço das políticas demográficas nas áreas de maior adensamento de população.
 - (D) ao aumento do PIB (Produto Interno Bruto) refletindo nas metrópoles.
 - (E) à redução das desigualdades sociais nas áreas urbanas.
16. Nas últimas décadas tem-se observado um crescente processo de desconcentração industrial no Brasil. Dentre os argumentos utilizados para explicar o processo destaca-se
- (A) a busca por mão de obra abundante e, predominantemente, barata.
 - (B) a existência de sólidas estruturas de formação de novas tecnologias.
 - (C) a necessidade de reforçar a coesão entre os estados ou regiões.
 - (D) a decisão política do governo federal ou dos estados em favorecer a migração.
 - (E) a presença de matérias-primas que garanta a diversificação de produtos.

17. Considere o mapa e os textos para responder à questão.

Brasil: domínios morfoclimáticos



(Ab'Sáber, Aziz. *Os domínios de natureza no Brasil: potencialidades paisagísticas.*)

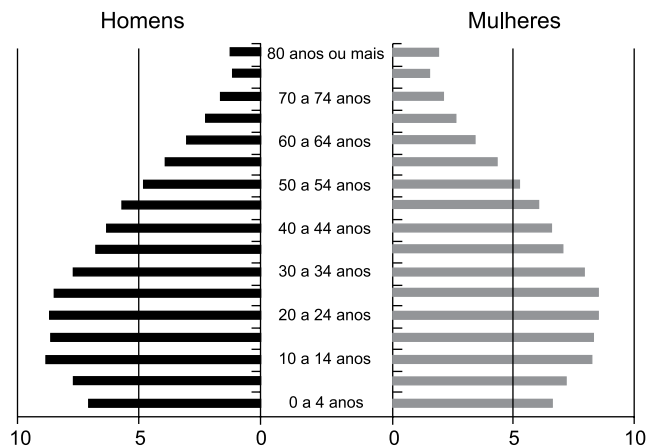
- I. Este domínio tem mostrado ser o meio físico, ecológico e paisagístico mais complexo e difícil em relação às ações antrópicas. É uma área sujeita aos mais fortes processos de erosão e de movimentos coletivos de solos em todo o território brasileiro. Área de mamelonização extensiva, afetando todos os níveis da topografia (de 10-20 m a 1100-1300 m) de altitude.
- II. Este domínio com aproximadamente 400 mil quilômetros quadrados é sujeito a climas subtropicais úmidos de planaltos com invernos relativamente brandos. O domínio comporta as paisagens menos “tropicais” do país. Ainda que a pedração dos solos não tenha sido muito grande na maior parte dos planaltos, é digno de nota que restem apenas 15% a 20% da biomassa original do domínio.

Os textos I e II referem-se, respectivamente, aos domínios indicados no mapa pelos números

- (A) 4 e 5.
- (B) 5 e 2.
- (C) 1 e 5.
- (D) 4 e 2.
- (E) 1 e 3.

18. Considere a pirâmide etária do Brasil para responder à questão.

Pirâmide etária (2010)



(Théry, H. e Mello-Théry, N.A. *Atlas do Brasil: Disparidades e dinâmicas do território.*)

A pirâmide etária de 2010 reflete

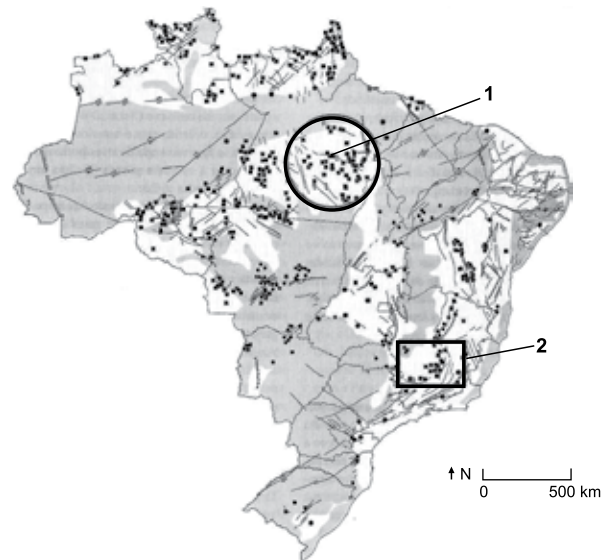
- (A) a reorganização socioeconômica da população brasileira.
- (B) a dinâmica demográfica em que predomina a redução do crescimento vegetativo.
- (C) os vários ciclos migratórios ocorridos ao longo do século XX.
- (D) a relativa homogeneidade demográfica obtida neste século XXI.
- (E) a superação do bônus demográfico do final do século XX.

19. A rápida expansão da agricultura tecnificada de grãos e fibras no cerrado brasileiro se deve a um conjunto de fatores, sendo um deles

- (A) a presença de grupos de goianos e mato-grossenses com grandes somas de capitais para investir localmente.
- (B) a alta qualidade dos solos agrícolas que apresentam forte concentração de argilas, calcários e nutrientes.
- (C) a antiga e densa rede urbana que garantiu a formação de empresas de agronegócios de importância nacional.
- (D) à possibilidade de ocupar os solos, elevar a produtividade e não provocar fortes impactos ambientais.
- (E) o baixo valor das terras nos campos limpos e cerrados, ocupados anteriormente pela pecuária extensiva.

20. Considere o mapa para responder à questão.

Brasil recursos minerais



(Théry, H. e Mello-Théry, N.A. *Atlas do Brasil: Disparidades e dinâmicas do território.*)

As áreas indicadas pelos números 1 e 2 correspondem, respectivamente,

- (A) à Serra do Navio e à Bacia Potiguar, ambas em áreas sedimentares.
- (B) à Bacia Tucano e à Reserva Mantiqueira, ambas em áreas de escudos cristalinos.
- (C) à Província mineral de Carajás e ao Quadrilátero ferrífero, ambas em áreas de escudos cristalinos.
- (D) à Reserva Oriximiná e ao Quadrilátero ferrífero, ambas em áreas sedimentares.
- (E) à Província mineral de Carajás e à serra do Navio, ambas em áreas sedimentares.

CONHECIMENTOS ESPECÍFICOS

21. Para os fins do Decreto-Lei nº 200/1967, considera-se autarquia:

- (A) a entidade dotada de personalidade jurídica de direito privado, criada por lei para a exploração de atividade econômica, sob a forma de sociedade anônima, cujas ações com direito a voto pertençam em sua maioria à União ou à entidade da Administração Indireta.
- (B) a entidade dotada de personalidade jurídica de direito privado, sem fins lucrativos, criada em virtude de autorização legislativa, para o desenvolvimento de atividades que não exijam execução por órgãos ou entidades de direito público, com autonomia administrativa, patrimônio próprio gerido pelos respectivos órgãos de direção, e funcionamento custeado por recursos da União e de outras fontes.
- (C) a entidade dotada de personalidade jurídica de direito privado, com patrimônio próprio e capital exclusivo da União ou de suas entidades da Administração Indireta, criada por lei para desempenhar atividades de natureza empresarial que o Governo seja levado a exercer, por motivos de conveniência ou contingência administrativa, podendo tal entidade revestir-se de qualquer das formas admitidas em direito.
- (D) o serviço autônomo, criado por lei, com personalidade jurídica, patrimônio e receita próprios, para executar atividades típicas da Administração Pública, que requeiram, para seu melhor funcionamento, gestão administrativa e financeira descentralizada.
- (E) a entidade dotada de personalidade jurídica de direito privado, com patrimônio próprio e capital exclusivo da União, criado por lei para a exploração de atividade econômica que o Governo seja levado a exercer por força de contingência ou de conveniência administrativa, podendo revestir-se de qualquer das formas admitidas em direito.

22. De acordo com as definições estabelecidas para fins licitatórios na seção II da lei das licitações públicas e suas alterações, o que garante o fiel cumprimento das obrigações assumidas por empresas em licitações e contratos é

- (A) execução direta.
- (B) compra.
- (C) execução indireta.
- (D) alienação.
- (E) seguro-garantia.

23. Sobre as obrigações acessórias, a microempresa ou empresa de pequeno porte optante pelo Simples Nacional deverá apresentar anualmente

- (A) à Secretaria da Fazenda Municipal declaração única e simplificada com as informações do faturamento.
- (B) à Secretaria da Receita Federal do Brasil, declaração única e simplificada de informações socioeconômicas e fiscais, que deverá ser disponibilizada aos órgãos de fiscalização tributária e previdenciária.
- (C) à Secretaria da Fazenda Estadual declaração única e simplificada com as informações financeiras.
- (D) às Secretarias das Fazendas Estaduais e Municipais declaração única e simplificada de informações socioeconômicas, financeiras e fiscais.
- (E) à União formulário de informações socioeconômicas, financeiras e fiscais, que deverá ser disponibilizada aos órgãos de fiscalização tributária e previdenciária.

24. Os órgãos executores do Registro Público de Empresas Mercantis e Atividades Afins e do Registro Civil das Pessoas Jurídicas colocarão à disposição dos demais integrantes da Redesim, por meio eletrônico,

- (A) as imagens digitalizadas dos atos societários que serão disponibilizadas nas juntas comerciais dos estados e cartórios por prazo indeterminado.
- (B) os dados de registro de empresários ou pessoas jurídicas, imediatamente após o arquivamento dos atos.
- (C) os dados de registro de empresários ou pessoas jurídicas e demais atos societários, imediatamente após o arquivamento dos atos nas juntas comerciais.
- (D) as imagens digitalizadas dos atos arquivados, no prazo de 5 (cinco) anos após o arquivamento.
- (E) as imagens digitalizadas dos atos societários que serão disponibilizadas nas juntas comerciais dos estados por prazo vitalício.

25. Em conformidade com a Constituição Federal do Brasil, são princípios da administração pública:

- (A) unidade, universalidade, exclusividade, legalidade e publicidade.
- (B) totalidade, impessoalidade, exclusividade, legalidade e transparência.
- (C) legalidade, impessoalidade, moralidade, publicidade e eficiência.
- (D) unidade, universalidade, exclusividade, legalidade e transparência.
- (E) totalidade, orçamento bruto, exclusividade, legalidade e publicidade.

26. Parceria público-privada é o contrato administrativo de concessão, na modalidade patrocinada ou administrativa. Dessa forma, é vedada a celebração de contrato de parceria público-privada
- (A) cujo valor do contrato seja inferior a R\$ 10.000.000 (dez milhões de reais).
- (B) cujo valor do contrato seja inferior a R\$ 20.000.000 (vinte milhões de reais).
- (C) cujo valor do contrato seja inferior a R\$ 15.000.000 (quinze milhões de reais).
- (D) cujo período de prestação do serviço seja superior a 5 (cinco) anos.
- (E) que tenha como objeto único o fornecimento de prestação de serviços, o fornecimento e máquinas ou a execução de obra.
27. A racionalidade, eficiência e transparência para os processos de elaboração, execução e controle do orçamento público são norteados ou direcionados pelos princípios orçamentários. Nesse sentido, assinale a alternativa que contenha o princípio orçamentário relacionado, o qual determina existência de orçamento único para cada um dos entes federados – União, Estados, Distrito Federal e Municípios – com a finalidade de se evitarem múltiplos orçamentos paralelos dentro da mesma pessoa política.
- (A) Singularidade.
- (B) Imparcialidade.
- (C) Legalidade.
- (D) Exclusividade ou uniformidade.
- (E) Unidade ou totalidade.
28. No que tange aos créditos adicionais, assinale a alternativa que demonstra a diferença entre os suplementares e os especiais.
- (A) Especiais são incorporados ao orçamento, enquanto os suplementares são destinados à despesa em que não haja dotação orçamentária específica.
- (B) Especiais são destinados a despesas urgentes e imprevistas, enquanto os suplementares são considerados para cobrir despesas extra-orçamentárias.
- (C) Suplementares são os destinados a dotações sociais específicas, sendo os especiais para despesas urgentes e imprevistas, em caso de guerra, comoção intestinal ou calamidade pública.
- (D) Suplementares são destinados a reforço de dotação orçamentária, sendo os especiais destinados a despesas para as quais não haja dotação orçamentária específica.
- (E) Suplementares são abertos para despesas não empenhadas, enquanto os especiais, para transferências entre os poderes.
29. Um determinado estado obteve, no exercício de 2021, uma receita corrente líquida hipotética de R\$ 580.000.000.000. Com isso, o limite da despesa com pessoal, em reais, para o estado e neste ano, relacionado ao Legislativo, incluído o Tribunal de Contas do Estado, é de:
- (A) 17.400.000.000
- (B) 11.600.000.000
- (C) 34.800.000.000
- (D) 284.200.000.000
- (E) 348.000.000.000
30. Assinale a alternativa que contenha a nomenclatura do quadro integrante do balanço patrimonial de uma entidade pública.

<ENTE DA FEDERAÇÃO>		
Quadro: _____		
(Lei nº 4.320/1964)		
	Exercício Atual	Exercício: 20XX Exercício Anterior
Atos Potenciais Ativos		
Garantias e Contragarantias recebidas		
Direitos Conveniados e outros instrumentos congêneres		
Direitos Contratuais		
Demandas Judiciais		
Outros atos potenciais ativos	_____	_____
Total dos Atos Potenciais Ativos		
Atos Potenciais Passivos		
Garantias e Contragarantias concedidas		
Obrigações conveniadas e outros instrumentos congêneres		
Obrigações contratuais		
Demandas Judiciais		
Outros atos potenciais passivos	_____	_____
Total dos Atos Potenciais Passivos		

- (A) Ativos e passivos permanentes.
- (B) Ativos e passivos contingentes.
- (C) Garantias recebidas e ofertadas.
- (D) Ativos e passivos financeiros.
- (E) Contas de compensação.

31. O ciclo orçamentário é determinado em quatro etapas, sendo elas, em ordem,
- (A) estudo do mercado, análise da cobertura, preparação e execução.
 - (B) planejamento, cobrança, recolhimento e comparação.
 - (C) planejamento, elaboração, captação e avaliação.
 - (D) planejamento, preparação, aplicação e execução.
 - (E) elaboração, estudo e aprovação, execução e avaliação.
32. Assinale a alternativa correta, relacionada às características qualitativas da informação contábil.
- (A) A verificabilidade difere da uniformidade. Para que a informação seja verificável, coisas semelhantes devem parecer semelhantes e coisas distintas devem parecer distintas.
 - (B) Para ser justa como informação contábil, a informação deve corresponder à representação verdadeira dos fenômenos financeiros, operacionais e econômicos, bem como outros que se pretenda representar.
 - (C) A materialidade é a qualidade da informação que ajuda a assegurar aos usuários que a informação contida nos informes contábeis representa fielmente os fenômenos econômicos ou de outra natureza que se propõe a representar, considerando um limite razoável de margem de erro.
 - (D) Tempestividade significa ter informação disponível para os usuários antes que ela perca a sua capacidade de ser útil para fins de prestação de contas e responsabilização (*accountability*) e tomada de decisão.
 - (E) As características qualitativas da informação contábil são a materialidade, a uniformidade, a equidade, a comparabilidade, a verificabilidade e a *accountability*.
33. O Sistema de Planejamento e de Orçamento Federal tem por finalidade
- (A) acompanhar, junto aos setores de controladoria, de cada esfera, o processo de planejamento e orçamento federal.
 - (B) promover a articulação com os Estados, o Distrito Federal e os Municípios, visando à compatibilização de normas e tarefas afins aos diversos Sistemas, nos planos federal, estadual, distrital e municipal.
 - (C) requerer planos nacionais, setoriais e regionais de desenvolvimento econômico e social, para apresentação no orçamento plurianual.
 - (D) fomentar a diversidade do planejamento estratégico federal.
 - (E) requerer das esferas federal, estadual, municipal e do distrito federal o plano plurianual, as diretrizes orçamentárias e os orçamentos anuais.
34. Segundo o manual de contabilidade aplicado ao setor público, 9ª edição, com relação à aplicação de mudança nas políticas contábeis de uma entidade, a adoção antecipada de uma nova norma não deve ser considerada como mudança voluntária na política contábil. As mudanças nas políticas contábeis deverão ser aplicadas da seguinte forma:
- I. aplicar as disposições transitórias da nova norma;
 - II. aplicar retrospectivamente como se a política sempre estivesse vigente, caso não haja nenhuma disposição contrária; e
 - III. aplicar prospectivamente, se for impraticável fazer a aplicação retrospectiva.
- No caso da aplicação retrospectiva, a entidade deverá
- (A) reabrir os registros contábeis dos anos anteriores, reconhecer os ajustes em seus respectivos anos, e rerepresentar o balanço patrimonial do exercício atual.
 - (B) registrar o valor do ajuste no resultado abrangente do exercício, uma vez que não faz parte do resultado normal desse mesmo exercício.
 - (C) ajustar o saldo de abertura de cada item patrimonial afetado desde a publicação mais antiga e até o período anterior apresentado.
 - (D) registrar o valor do ajuste como ajuste de exercícios anteriores, no grupo de reservas de lucros.
 - (E) reconhecer o ajuste no resultado do exercício como item extraordinário, e explicar nas notas explicativas.
35. Leia as seguintes informações.
- Em 31 de março de 2022 a empresa Investimentos S/A mantinha uma participação de 85% no capital da empresa Investida Ltda.
 - O valor do capital da Investida Ltda., naquela data era de R\$ 100.000,00 e o patrimônio total, antes do fechamento do resultado no período, era de R\$ 500.000,00.
 - O lucro da Investida Ltda., em 30 de março de 2022, foi de R\$ 150.000,00.
 - Trata-se de uma participação relevante para a empresa Investimentos S/A, inclusive ela tem influência na administração e na tomada de decisões da empresa Investida Ltda.
- Com base nas informações fornecidas, indique o valor do investimento mantido na Investimentos S/A, em reais, em 31 de março de 2022, caso hipoteticamente essa empresa tenha fechado um balanço patrimonial.
- (A) 85.000
 - (B) 552.500
 - (C) 500.000
 - (D) 425.000
 - (E) 127.500

36. O setor jurídico de uma entidade pública encaminhou para a contabilidade a relação de reclamações trabalhistas contra esta, de forma que o contador providencie o reconhecimento patrimonial contábil do risco demonstrado pelo jurídico.

Relação de processos trabalhistas:

Risco de perda	Valor estimado em reais
Perda Provável	1.234.500,00
Perda Possível	850.000
Perda Remota	1.500.500,00
	3.585.000,00

Com base nessa informação, o reconhecimento contábil patrimonial da provisão, que foi estimada pelo setor jurídico, considerando as normas contábeis para o setor público, será:

- (A) D 3.9.7.x.x.xx VPD de Constituição de Provisões
C 2.x.7.x.x.xx Provisões (P) R\$ 1.234.500,00
- (B) D 3.9.7.x.x.xx VPD de Constituição de Provisões
C 2.x.7.x.x.xx Provisões (P) R\$ 2.084.500,00
- (C) D 5.9.7.x.x.xx Constituição de Contas a pagar
C 2.x.7.x.x.xx Provisões (PL) R\$ 2.084.500,00
- (D) D 4.9.7.x.x.xx VPD de Constituição de Provisões
C 3.x.7.x.x.xx Provisões (P) R\$ 1.234.500,00
- (E) D 6.9.7.x.x.xx Constituição de Provisões
C 2.x.7.x.x.xx Provisões (PL) R\$ 3.585.000,00

37. Indique o valor do custo dos produtos vendidos de uma empresa de varejo, em 31/12/2021, em reais, com base nas seguintes informações.

- Estoque apresentado em 31/12/2020: R\$ 1.500.000,00
- Compras líquidas de produtos para revenda no exercício: R\$ 850.000,00
- Vendas brutas de produtos no exercício: R\$ 1.785.000,00
- Devoluções de vendas no período: R\$ 120.000,00
- Estoques apresentados em 31/12/2021, após inventário físico: 975.000,00

- (A) 850.000
- (B) 1.665.000
- (C) 975.000
- (D) 290.000
- (E) 1.375.000

38. Em conformidade com a LC 101/2000, a operação de crédito por antecipação de receita destina-se a atender insuficiência de caixa durante o exercício financeiro e cumprirá as exigências mencionadas na mesma lei e, também,

- (A) realizar-se-á enquanto existir operação anterior da mesma natureza não integralmente resgatada.
- (B) realizar-se-á no último ano de mandato do chefe do poder executivo.
- (C) deverá haver uma previsão de pagamento até o dia dez de dezembro de cada ano.
- (D) deverá ser liquidada, com juros e outros encargos incidentes, até o dia dez de dezembro de cada ano.
- (E) realizar-se-á somente a partir do segundo dia útil do início do exercício.

39. O contador de uma entidade pública recebeu a aprovação do orçamento de arrecadação de determinada receita no valor de R\$ 1.000.000,00. Considerando a ótica do Plano de Contas Aplicado ao Setor Público, o registro contábil da previsão da receita, no momento da aprovação da Lei Orçamentária é

- (A) 7.2.1.1.x.xx Controle da Disponibilidade de Recursos
C 8.2.1.1.1.xx Disponibilidade por Destinação de Recursos
- (B) D 6.2.1.1.x.xx Receita a Realizar
C 6.2.1.2.x.xx Receita Realizada
- (C) D 5.2.1.1.x.xx Previsão Inicial da Receita
C 6.2.1.2.x.xx Receita Realizada
- (D) D 5.2.1.1.x.xx Previsão Inicial da Receita
C 6.2.1.1.x.xx Receita a Realizar
- (E) D 6.2.1.1.x.xx Receita a Realizar
C 8.2.1.1.1.xx Disponibilidade por Destinação de Recursos

40. O contador de uma entidade pública recebeu informação do ato da emissão do empenho no valor de R\$ 100.000,00. Considerando a ótica do Plano de Contas Aplicado ao Setor Público, o registro contábil no momento do empenho da despesa orçamentária (ocorrência do fato gerador depois do empenho) cuja natureza da informação configura-se especificamente como orçamentária, é:
- (A) D 6.2.2.1.3.02.xx Crédito Empenhado em Liquidação
C 6.2.2.1.3.03.xx Crédito Empenhado Liquidado a Pagar
 - (B) D 6.2.2.1.1.xx.xx Crédito Disponível
C 6.2.2.1.3.01.xx Crédito Empenhado a Liquidar
 - (C) D 3.x.x.x.x.xx.xx Variação Patrimonial Diminutiva
C 2.1.x.x.x.xx.xx Passivo Circulante (F)
 - (D) D 8.2.1.1.2.xx.xx DDR Comprometida por Empenho
C 8.2.1.1.3.xx.xx DDR Comprometida por Liquidação e Entradas Compensatórias
 - (E) D 6.2.2.1.3.01.xx Crédito Empenhado a Liquidar
C 6.2.2.1.3.02.xx Crédito Empenhado em Liquidação
41. Sobre o Balanço Orçamentário, em seu quadro principal, a previsão atualizada demonstra os valores da previsão atualizada das receitas, que refletem a reestimativa da receita decorrente de registro de excesso de arrecadação ou contratação de operações de crédito,
- (A) para aberturas de novas naturezas de receitas.
 - (B) para atualizações monetárias, efetuadas antes da data da publicação da LOA.
 - (C) para a criação de novas naturezas de receitas previstas na LOA.
 - (D) para correções monetárias autorizadas por lei, efetuadas antes da data da publicação da LOA.
 - (E) ambas podendo ser utilizadas para abertura de créditos adicionais.
42. O Balanço Financeiro é composto por um único quadro que evidencia a movimentação financeira das entidades do setor público e demonstra, entre outras informações,
- (A) os recebimentos e pagamentos realizados.
 - (B) os recebimentos e pagamento ordinários.
 - (C) o saldo em espécie do exercício a realizar.
 - (D) a receita orçamentária realizada e a despesa orçamentária executada, por fonte / destinação de recurso, discriminando as ordinárias e as vinculadas.
 - (E) Superávit/Déficit Financeiro.
43. Serão inscritas em restos a pagar, no final do exercício, as despesas orçamentárias empenhadas e não pagas. A inscrição de restos a pagar deve observar as disponibilidades financeiras e condições da legislação pertinente, de modo a prevenir riscos e corrigir desvios capazes de afetar o equilíbrio das contas públicas, conforme estabelecido
- (A) na Lei das Diretrizes Orçamentárias – LDO.
 - (B) no Lei Orçamentária Anual – LOA.
 - (C) na Lei de Responsabilidade Fiscal – LFR.
 - (D) na Lei do Orçamento – LO.
 - (E) no Projeto de Lei Orçamentária Anual – PLOA.
44. A indústria Fabrica Quase Tudo Ltda. adquiriu um equipamento para uso nas suas operações industriais. As informações referentes à aquisição do equipamento são:
- o valor do Equipamento, foi de R\$ 1.500.000,00;
 - a data da aquisição – Julho de 2021;
 - o valor da obra civil para se colocar a máquina em funcionamento foi de R\$ 190.000,00;
 - o bem entrou em funcionamento somente em 1º de setembro de 2021;
 - a vida útil calculada para o bem foi de 23 anos;
 - o valor residual do bem foi calculado em 5% do valor do equipamento;
 - o valor do frete foi de 10% do valor do bem;
 - o valor do ICMS recuperável foi de 17% do valor do bem.
- Com base nessas informações, assinale a alternativa que contenha o valor da depreciação acumulada em 31 de dezembro de 2021, em reais, desprezando os centavos:
- (A) 21.884
 - (B) 20.105
 - (C) 32.826
 - (D) 19.999
 - (E) 28.956
45. Os créditos inscritos em dívida ativa, embora gozem de prerrogativas jurídicas para sua cobrança, apresentam significativa probabilidade de não realização em função de cancelamentos, prescrições, ações judiciais, entre outros.
- O ajuste para perdas, do valor porventura não recebido, deverá ser registrado no ativo em contrapartida a uma _____, independentemente da metodologia utilizada para sua mensuração.
- Assinale a alternativa que completa corretamente a frase:
- (A) variação patrimonial ativa (VPA)
 - (B) variação patrimonial diminutiva (VPD)
 - (C) provisão para prováveis perdas com créditos de liquidação duvidosa
 - (D) resultado não abrangente
 - (E) ajustes patrimoniais

46. O perdão da dívida, que se dá em determinadas circunstâncias previstas na lei, tais como valor diminuto da dívida, situação difícil que torna impossível ao sujeito passivo solver o débito, inconveniência do processamento da cobrança, dado o alto custo não compensável com a quantia em cobrança, probabilidade de não receber, erro ou ignorância escusáveis do sujeito passivo, equidade, etc, é tratado, conforme a renúncia de receita, pela Lei de Responsabilidade Fiscal de

- (A) anistia.
- (B) reemissão.
- (C) isenção.
- (D) perdão.
- (E) crédito presumido.

47. Conforme o art. 25 da Lei de Responsabilidade Fiscal Complementar (LRF) nº 101/2000, entende-se por transferência voluntária a entrega de recursos correntes ou de capital a outro ente da Federação, a título de cooperação, auxílio ou assistência financeira, que não decorra de determinação constitucional, legal ou os destinados ao Sistema Único de Saúde (SUS).

Nesse sentido, para o reconhecimento contábil, exceto em casos que houver cláusula contratual garantidora, o ente receptor deve registrar a receita orçamentária apenas

- (A) no momento da efetiva transferência financeira.
- (B) no momento do empenho do ente de origem.
- (C) na confirmação de que haverá transferência.
- (D) após a publicação da doação.
- (E) na preparação da projeção orçamentária.

48. O custo por absorção se caracteriza

- (A) pelo rateio do custeio marginal.
- (B) pela distribuição dos custos por atividades.
- (C) pela responsabilidade dos custos e despesas variáveis.
- (D) pela apropriação do custo médio ponderado dos produtos.
- (E) pela apropriação de todos os custos de produção aos produtos.

49. Leia as informações a seguir.

A área de custos de uma indústria metalúrgica apresentou a seguinte estrutura de custos fixos para o mês de junho de 2022:

• Mão de Obra e Encargos – fixos	R\$ 340.000,00
• Depreciação – fixa	R\$ 32.500,00
• Materiais indiretos – fixos	R\$ 25.000,00
• Aluguel do industrial	R\$ 100.000,00
• Custos Fixos	R\$ 22.000,00

• No mês de junho de 2022, o controle de produção apontou, em sua planilha, que a indústria produziu 3.500 peças de um determinado produto, sendo que seu custo unitário final foi de R\$ 948,43.

• No mês julho, o controle de produção informou que foram produzidas 4.500 unidades desse mesmo produto.

• Não houve qualquer alteração nos custos variáveis.

• Os custos fixos aumentaram em R\$ 2.000,00 nos materiais indiretos e em 10% o aluguel da fábrica.

Com base nessas premissas, é possível afirmar que

(A) a variação de 1.000 peças de junho para julho impactou os custos fixos unitários em R\$15,00.

(B) houve uma redução dos custos unitários variáveis de junho para julho em R\$ 70,00.

(C) o custo unitário foi mais eficiente em R\$ 30,32, do mês de junho para julho.

(D) o custo unitário fixo em julho de 2022 monta a R\$ 148,43.

(E) o custo variável total variou de junho para julho de 2022 em 28%.

50. Uma indústria eletroeletrônica necessita calcular o ponto de equilíbrio relacionado à produção e venda de uma TV XPTO de 40". Para tanto, apresentou as informações:

	Reais
• Preço unitário de venda de TV 40"	1.500,00
• Custos + despesas variáveis = Unitário	1.050,00
• Custos + despesas fixas – mensal	1.800.000,00

Com base nessas informações, indique a quantidade de unidades que serão necessárias comercializar para se obter o ponto de equilíbrio da referida TV.

(A) 5.200

(B) 3.800

(C) 4.000

(D) 2.500

(E) 5.000

Utilize as informações a seguir da empresa Ganha ou Perde Tudo Ltda. para responder às questões de números **50** e **51**, relacionadas com a preparação do fluxo de caixa pelo método indireto para o exercício hipotético de 2021.

Operação	Reais
Prejuízo do exercício	100.000
Resultado negativo da Equivalência Patrimonial	68.000
Depreciação e amortização	196.000
Baixas líquidas do ativo imobilizado	30.400
Reversão da provisão para contingências tributárias no período	56.800
Redução (aumento) em contas a receber	(184.000)
Redução (aumento) nos estoques	171.200
(Redução) em fornecedores	(114.400)
Aumento (redução) em impostos e contribuições a recolher	38.400
Aquisição de ativo imobilizado	221.600
Aquisição do ativo intangível	91.200
Aquisição de investimentos	1.600
Empréstimos tomados	992.000
Integralização de capital	160.000
Pagamentos de empréstimos – principal	919.200

Obs. Os saldos no início e no final do período de caixa e equivalentes de caixa foram:
Caixa e equivalentes de caixa no início do período: R\$ 125.200,00
Caixa e equivalentes de caixa no final do período: R\$ 92.400,00

51. O caixa líquido, em reais, obtido das atividades operacionais da empresa, em 31 de dezembro de 2021 é de:

- (A) 79.200,00.
- (B) 84.000,00.
- (C) 64.000,00.
- (D) 48.800,00.
- (E) 74.800,00.

52. O aumento (ou redução) do caixa e equivalentes de caixa, em reais, no fluxo de caixa indireto da empresa em 31 de dezembro de 2021, é

- (A) uma redução de 40.400,00.
- (B) uma redução de 32.800,00.
- (C) um aumento de 32.800,00.
- (D) um aumento de 40.400,00.
- (E) um aumento de 54.400,00.

De acordo com as informações a seguir responda às questões de números 53 a 55.

Balancete em 31/03/2022	Reais
Estoques de mercadorias	125.000,00
Fornecedores nacionais	97.500,00
Caixa e equivalentes de caixa	100.000,00
Despesas com IR e CS	90.100,00
Despesas comerciais	67.500,00
Receita bruta de vendas	700.000,00
Contas a pagar	30.000,00
Despesas gerais	39.000,00
Impostos a recolher	7.400,00
Imposto de Renda e CSLL a recolher	90.100,00
Despesas administrativas	45.000,00
Clientes	169.900,00
Impostos sobre vendas	140.000,00
Capital Social	150.000,00
CMV – Custo das Mercadorias Vendidas	277.500,00
Imobilizado, líquido	120.000,00
Financiamento bancário (PNC)	60.000,00
Receitas financeiras	4.500,00
Despesas financeiras	10.500,00
Empréstimos bancários (PC)	45.000,00

Durante o mês de abril.22, ocorreram as seguintes operações:

Vendas à vista de mercadorias no valor de R\$ 250.000;

Impostos sobre vendas 20%;

Despesas comerciais pagas no último dia útil do mês – 31.000;

Despesas administrativas pagas no mês – R\$ 12.000;

Despesas gerais pagas no mês – R\$ 35.000; e

Despesas financeiras pagas no mês R\$ 2.000.

Sobre a movimentação dos estoques:

Estoques **iniciais** correspondem a R\$ 125.000;

Compras no mês a serem pagas em maio correspondem a R\$ 70.000; e

Estoques finais correspondem a R\$ 50.000.

Sobre os impostos diretos:

O total do Imposto de Renda e a Contribuição Social sobre o lucro líquido ajustado equivale a 34%.

53. O valor do total do Ativo no final do mês de abril é de R\$

- (A) 689.900.
- (B) 539.900.
- (C) 559.900.
- (D) 514.900.
- (E) 609.900.

54. O valor do Lucro Bruto no final do mês de abril é de R\$

- (A) 402.500.
- (B) 337.500.
- (C) 347.500.
- (D) 832.500.
- (E) 422.500.

55. O valor do Lucro Líquido no final do mês de abril é de R\$

- (A) 66.000.
- (B) 128.700.
- (C) 399.300.
- (D) 79.200.
- (E) 115.500.

56. Em conformidade com a Estrutura Conceitual para Elaboração e Divulgação de Informação Contábil de Propósito Geral pelas Entidades do Setor Público, Ativo é um recurso controlado no presente pela entidade como resultado de evento passado. Os ativos do setor público que ensejam potencial de serviços podem ser representados pelos _____ e outros que sejam mantidos pelos governos e outras entidades do setor público e que sejam utilizados para a prestação de serviços a terceiros.

Assinale a alternativa que complete corretamente o texto:

- (A) de caixa e equivalentes de caixa
- (B) ativos imobilizados
- (C) ativos de recreação, do patrimônio cultural, comunitários, de defesa nacional
- (D) ativos permanentes
- (E) ativos imobilizados e intangíveis

Utilize as informações a seguir para responder às questões de números 57 a 60.

Quando aplicável, utilize o critério de arredondamento para duas casas após a vírgula.

BALANÇO PATRIMONIAL			
Cia Filagros Ltda			
	31/12/2021		31/12/202
ATIVO		PASSIVO	
CIRCULANTE		CIRCULANTE	
Caixa e Bancos	77.000,00	Fornecedores	1.950.000,00
Aplicações de CP	245.000,00	Outras obrigações	850.000,00
Contas a Receber de Clientes	2.827.500,00	Empréstimos Bancários	275.000,00
Estoques para Revenda	<u>2.800.500,00</u>	Duplicatas descontadas	<u>975.000,00</u>
Total Ativo Circulante	<u>5.950.000,00</u>	Total Passivo Circulante	<u>4.050.000,00</u>
NÃO CIRCULANTE		NÃO CIRCULANTE	
Realizável a LP	-	Empréstimos Banco A	1.250.000,00
Investimentos	412.000,00	Empréstimos Banco B	<u>950.000,00</u>
Imobilizado, líquido	3.750.000,00	Total Passivo Não Circulante	<u>2.200.000,00</u>
Intangível	<u>118.000,00</u>		
Total Ativo Não Circulante	<u>4.280.000,00</u>	PATRIMÔNIO LÍQUIDO	
		Capital social	3.240.257,43
		Lucro do exercício	<u>739.742,57</u>
		Total do Patrimônio Líquido	<u>3.980.000,00</u>
TOTAL DO ATIVO	10.230.000,00	TOTAL DO PASSIVO + PATRI. LÍQUIDO	10.230.000,00

DEMONSTRATIVO DO RESULTADO DO EXERCÍCIO	
Cia Filagros Ltda	
	31/12/2021
Receita Líquida	13.563.517,50
Custo da Mercadoria Vendida	9.788.576,72
Lucro Bruto	<u>3.774.940,78</u>
Despesas Operacionais	1.279.118,70
Receitas Operacionais	54.000,00
Lucro Operacional	<u>2.549.822,08</u>
Outras Receitas Não Operacionais	24.000,00
Outras Despesas Não Operacionais	1.453.000,00
Lucro Antes do IR	<u>1.120.822,08</u>
IR + CSSL	381.079,51
Lucro Líquido do Exercício	<u>739.742,57</u>

57. O índice de liquidez geral, em reais, corresponde a

- (A) 0,95
- (B) 0,02
- (C) 0,64
- (D) 1,47
- (E) 0,78

58. A margem de lucro líquido corresponde a:

- (A) 27,8%
- (B) 15,25%
- (C) 9,74%
- (D) 5,45%
- (E) 18,8%

59. A rentabilidade do ativo corresponde a

- (A) 12,9%
- (B) 26,47%
- (C) 3,5%
- (D) 32,1%
- (E) 7,23%

60. O índice de endividamento corresponde a

- (A) 131,23%
- (B) 157,03%
- (C) 154,17%
- (D) 173,11%
- (E) 138,74%

